




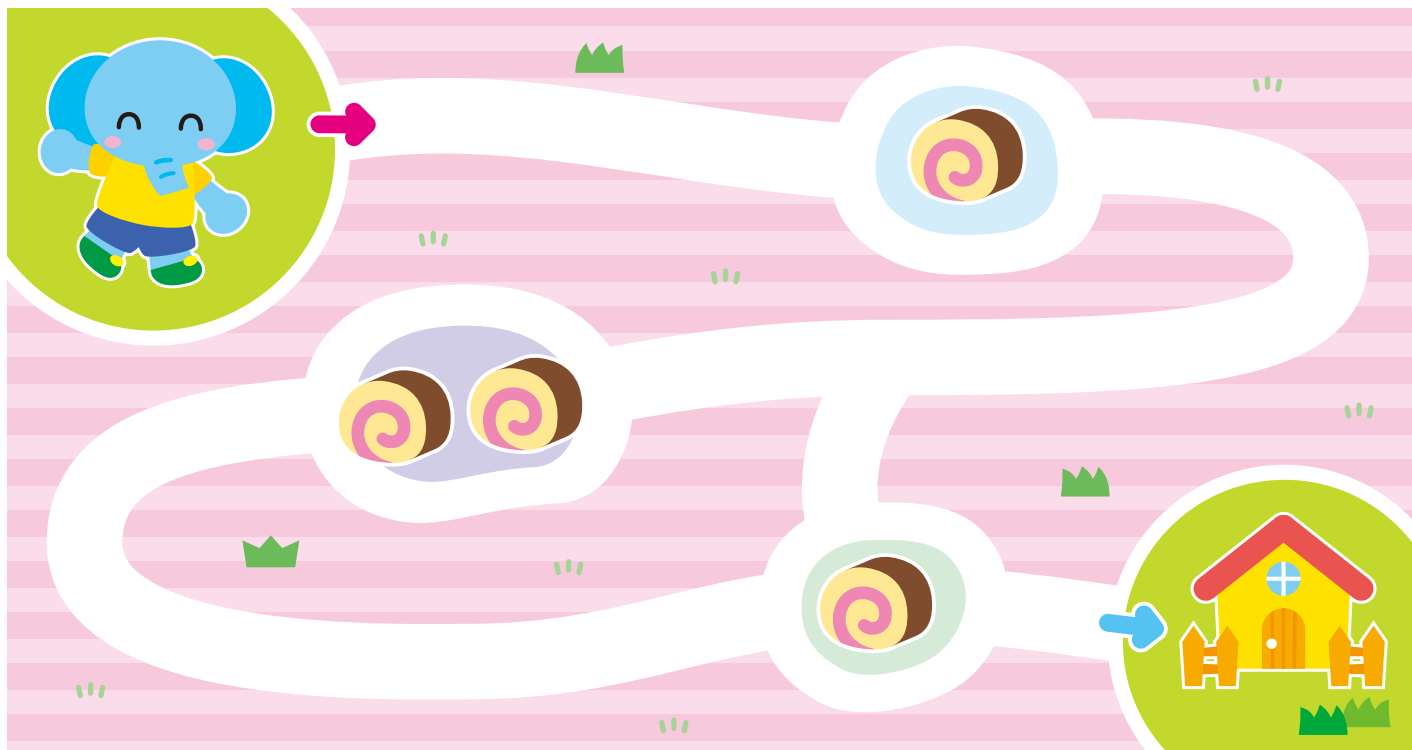
はじめに、1〜5の数の構成を理解するおけいこをします。4ページまでは、「1と1で、2」というように、2つの数を合わせて1つの数とみる「合成」の学習です。

		なまえ
がつ	にち	



ケーキを 2 に あつめて、いえに かえりましょう。

➡ から ➡ まで すすみましょう。





数の合併 あわせて いくつ

○に色をぬることで、合わせた数を、半具体物で表します。また、はちの絵には数字をそえていきます。はちの数をかぞえて確認させてください。

		なまえ
がつ	にち	



はちの かずは、あわせると いくつに なりますか。  
○に いろを ぬりましょう。

あわせて

○	○	○	○	○
○	○	○	○	○

あわせて

○	○	○	○	○
○	○	○	○	○



式

たしざんの しき



記号もしっかり読めるようにしましょう。「は」は、「ワ」と読むように教えてあげてください。

		なまえ
がつ	にち	




けえき ケーキの かずは、あわせて いくつですか。

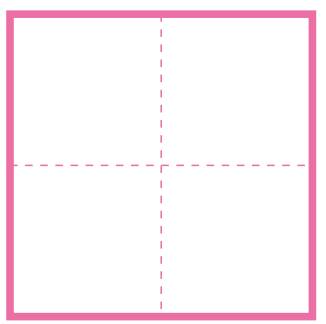
に すうじを かきましょう。



と



あわせて



これを、しきで かくと

よみかた **さん** たす よん は

$$3 + 4 =$$

