

3

図形発見 [同図形]



みほんとおなじ え ぜんぶに
○を つけましょう。



やった ひ

がつ 日にち

みほん



〈おうちのかたへ〉 メモとして、違うものには×印などをつけてもよいです。ただし、選択肢の絵にかからないよう、絵の上の空白部分などに小さくかくようにしましょう。本番のテストでも、絵にかかっていなければ大丈夫です。

B

きりがみ

□を ----で おってから、—— で
きって ひらくと、どれが できるでしょう。

やりかた

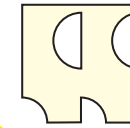
----で
おる。



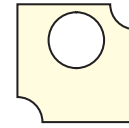
おった まま、
——で
きる。



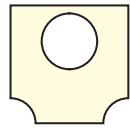
あ



い



う




おる



みほんをみて、おなじように
びんに きごうを かきましょう。



やった ひ



がつ にち

みほん



□ を ----で おってから、—— で
きって ひらくと、どれが できるでしょう。

やりかた

----で
おる。



おった まま、
——で
きる。




あ

い

う



おる



てんと てんを むすんで、
おなじ えを かきましょう。



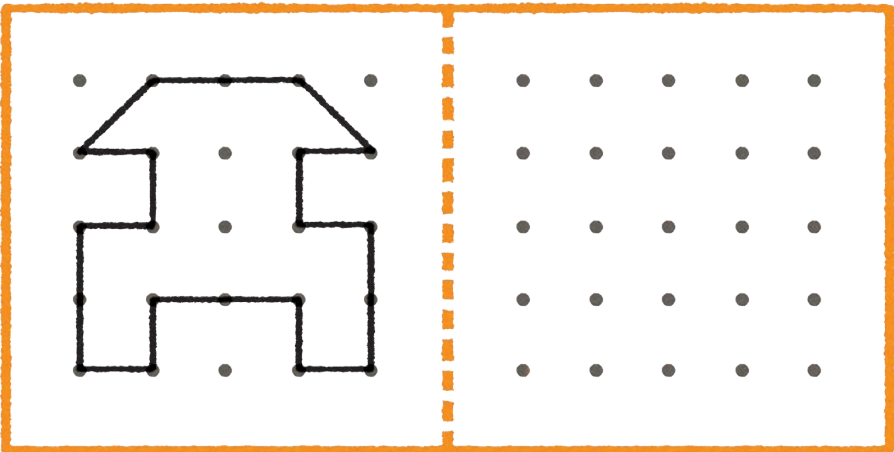
やった ひ

れい

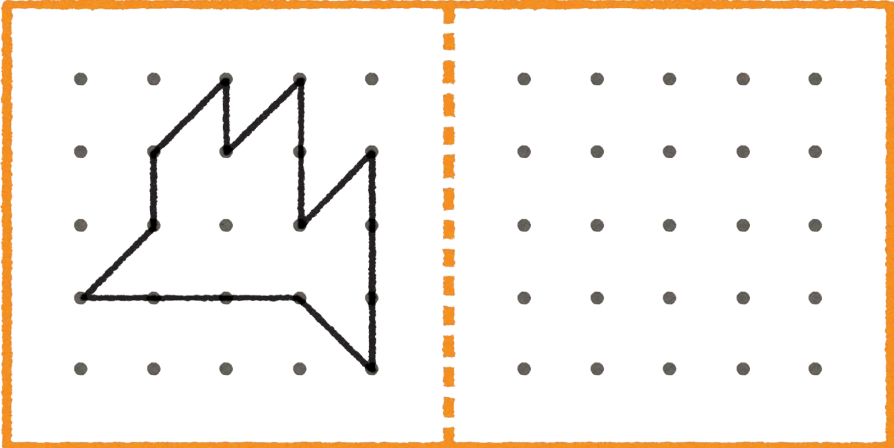


がつ にち

①



②



□ を ----で おってから、—— で
きって ひらくと、どれが できるでしょう。

やりかた

----で
おる。



おった まま、
——で
きる。



あ




い



う



おる



したの かがみに うつすと、
どの えに なりますか。
○を つけましょう。



やった ひ

が つ に ち

れい

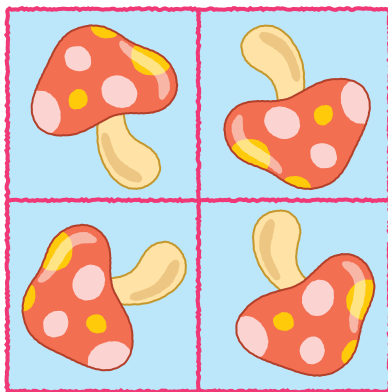


もとの えの したに
かがみを おいて、
さかさに うつします。





かがみ

①



②



〈おうちのかたへ〉 左右の鏡図形が少し分かってくると、上下も同じように理解できます。水面に映った景色のように、上下反転となります。もし上下だと見つけられない場合は、一度本を横にして、左右として見てみると分かりやすいでしょう。

□ を ---- で おってから、—— で
きって ひらくと、どれが できるでしょう。

やりかた

----で
おる。



おった まま、
——で
きる。




あ



い



う

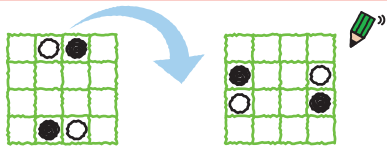


みぎへ 1かい ころがすと、
どう なりますか。
○と ●を かきましょう。

やった ひ



れい



がつ にち

□ を ----で おってから、—— で
きって ひらくと、どれが できるでしょう。

やりかた

----で 4つに おって きる。



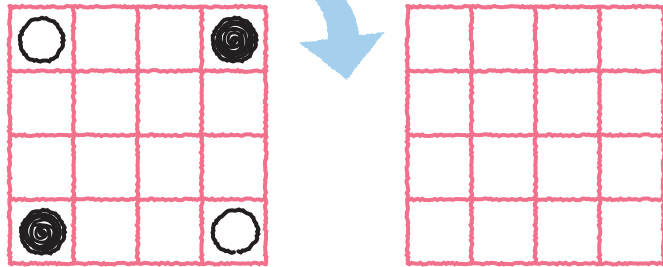
あ

い

う



①



②

