

かず

数え上げ

かずを かぞえる

がんばり  
シール


1 おにぎりの かずだけ、□に ○を かきましょう。



2 あめの かずだけ、□に ○を かきましょう。



3 りんご、みかん、いちごに わけて、それぞれの  
かずだけ、□に ○を かきましょう。



|     |  |
|-----|--|
| りんご |  |
| みかん |  |
| いちご |  |

かず


たりにない数

あと いくつかな

がんばり  
シール

- 1 コロッケが 9こ あります。あと  
いくつで 10こに なるでしょう。


□に ○を かきましょう。



|  |  |  |  |  |
|--|--|--|--|--|
|  |  |  |  |  |
|  |  |  |  |  |

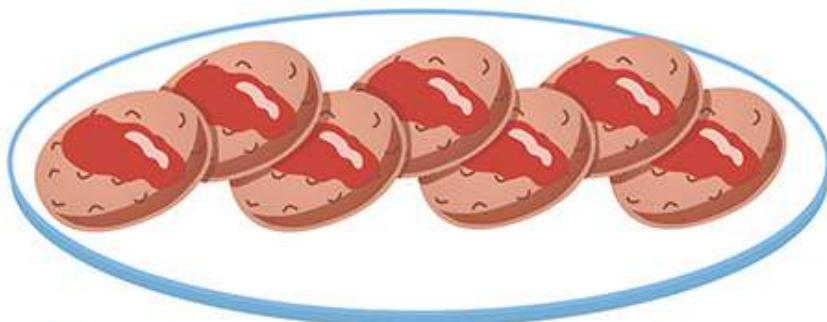


- 2 ぎょうざが 8こ あります。あと いくつで  
10こに なるでしょう。□に ○を かきましょう。



|  |  |  |  |  |
|--|--|--|--|--|
|  |  |  |  |  |
|  |  |  |  |  |

- 3 ハンバーグが 7こ あります。あと いくつで  
10こに なるでしょう。□に ○を かきましょう。



|  |  |  |  |  |
|--|--|--|--|--|
|  |  |  |  |  |
|  |  |  |  |  |

●おうちのかたへ●

小学1年生で習う「10は、いくつといくつ」という大事な学習です。たし算の基礎になります。同じような問題をおうちのかたが出題して、十分に慣れておくとよいでしょう。

はんぶんにおると、どのかたちになるでしょう。  
せんでつなぎましょう。

1



2



3



4



すいり

順番

ならびかた

がんばり  
シール

1 さる、いぬ、きじが じゅんばんに あるいて います。



さるが いぬの うしろへ はいると、どの じゅんばんに なるでしょう。( )に ○を かきましょう。



( )



( )



( )

★おうちのかたへ★

実際に、犬の後ろに、さるに見立てた絵などをかいて考えると、わかりやすいでしょう。




すいり


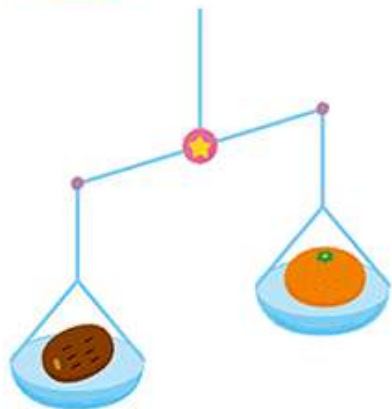
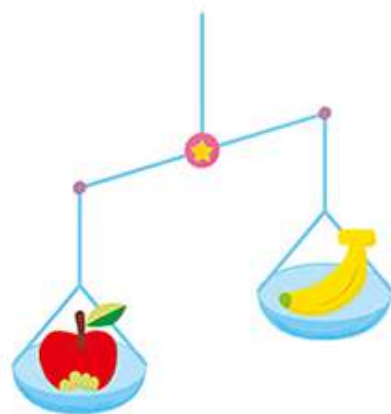
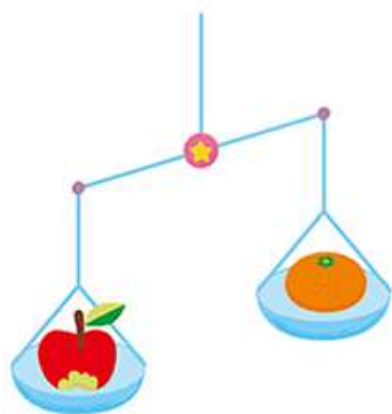
比較

おもさをくらべる

1 いちばん かるい この ( ) に、  
○をかきましょう。



2 いちばん おもい ものの ( ) に、  
○をかきましょう。



★ おうちのかたへ ★

◆ は、まず基準となる子（どちらの絵にもいる子）を見つけます。そのあと、「この子は、その子より重い（軽い）」と、順序立てて考えていきましょう。